

02

PROVA OBJETIVA.

CARGO: AGENTE DE MANUTENÇÃO MECÂNICA - AGENTE DE SERVIÇOS HIGIENE E ALIMENTAÇÃO - AGENTE DE SERVIÇOS E OBRAS PÚBLICAS - AGENTE DE SERVIÇOS GERAIS - AUXILIAR DE MANUTENÇÃO MECÂNICA - AUXILIAR DE SERVIÇOS E OBRAS PÚBLICAS – ELETRICISTA - OPERADOR DE MÁQUINAS LEVES - OPERADOR DE MÁQUINAS PESADAS.

Leia atentamente as **INSTRUÇÕES**:

1. Não será permitido ao candidato realizar as provas usando óculos escuros (exceto para correção visual, ou fotofobia, desde que informe no ato da inscrição), ou portando aparelhos eletrônicos (mesmo desligados), qualquer tipo de relógio, chaves, carteira, bolsa, acessórios que cubram o rosto, a cabeça, ou parte desta.
2. Será eliminado deste Concurso Público, o candidato que fizer uso do celular e/ou aparelho eletrônico, no local onde estiver ocorrendo o mesmo; o candidato cujo celular e/ou aparelho(s) eletrônico(s), mesmo desligado(s), emitir(em) qualquer som, durante a realização das provas. Durante todo o tempo em que permanecer no local, onde ocorrerá o Concurso Público, o candidato deverá manter o celular desligado, sendo permitido ativá-lo, somente após ultrapassar o portão de saída do prédio.
3. **Sob pena de ser eliminado deste Concurso Público**, o candidato poderá manter em cima da sua carteira apenas lápis, borracha, caneta, um documento de identificação, lanche (exceto líquido). **Outros pertences**, antes do início das provas, o candidato deverá acomodá-los **embaixo de sua cadeira**, sob sua guarda e responsabilidade.
4. Confira se a sua prova tem **10** questões, cada qual com **4 alternativas**, veja se o cargo para o qual se inscreveu está correto.
5. Verifique se seus dados no cartão-resposta (nome, número de inscrição e o cargo para o qual se inscreveu) estão corretos e **ASSINE** o mesmo.
6. Preencha toda a área do cartão-resposta correspondente à alternativa de sua escolha, com caneta esferográfica(tinta azul, ou preta), sem ultrapassar as bordas. As marcações duplas, rasuradas, ou marcadas diferentemente do modelo estabelecido no cartão-resposta, serão anuladas.
7. Observe as orientações apresentadas no cartão-resposta. O mesmo não será substituído, salvo se contiver erro de impressão.
8. Aguarde a autorização do fiscal para abrir o caderno de provas. Ao receber a ordem, confira-o com muita atenção. Nenhuma reclamação sobre o total de questões, ou falha de impressão, será aceita depois de iniciada a prova. Cabe apenas ao candidato a interpretação das questões, o fiscal não poderá fazer nenhuma interferência.
9. A Prova Objetiva terá duração máxima de **3h (três horas)**, incluso o tempo destinado ao preenchimento do cartão-resposta.
10. O candidato poderá se retirar do local de realização das provas somente 1h (uma hora) após o seu início, levando o caderno de provas.
11. Ao terminar sua prova, o candidato deverá entregar ao fiscal de sala o cartão-resposta preenchido, assinado e retirar-se do recinto, onde está ocorrendo a mesma, não lhe sendo mais permitido o uso do banheiro e bebedouro.
12. Os **3 (três)** candidatos, que terminarem a prova por último, deverão permanecer na sala, só poderão sair juntos, após o fechamento do envelope, contendo os cartões-respostas dos candidatos presentes e ausentes, assinarem no referido envelope, atestando que este foi devidamente lacrado.

BOA PROVA!

MATEMÁTICA.

01. Como se representa o numeral 7 em número romano?

- a) IIV.
- b) XII.
- c) VII.
- d) IIIIII.


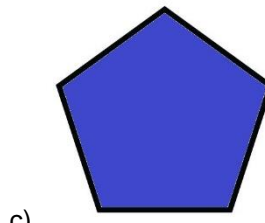


02. Para encher um tanque com capacidade de 10 litros de água, Mariana vai usar um jarro de 1 litro. Quantos jarros ela tem que despejar para encher o tanque?

- a) 1.
- b) 10.
- c) 100.
- d) 1000.

03. Gabriel comprou um carrinho que custou R\$ 12,50, pagou com uma cédula de R\$ 200,00. Quanto recebeu de troco?

- a) 12,50.
- b) 200,00
- c) 162,50.
- d) 187,75.

04. Marque a alternativa onde temos um losango.



05. Um andarilho percorre 15 Km em um dia. Quantos quilômetros ele percorrerá em 12 dias?

- a) 27.
- b) 50.
- c) 180.
- d) 220.

LÍNGUA PORTUGUESA.

Leia o texto para responder à próxima questão.

O que é lichia?



Fonte: <https://www.google.com.br/>.

Originária da China, a lichia é uma fruta de polpa gelatinosa. Ela possui apenas 64 calorias em cada 100 gramas. Envolta em uma casca rugosa e vermelha, é colhida justamente na época de Natal, podendo ser usada para decorar as mesas e compor o cardápio das ceias. Além de ser rica em vitamina C, essa fruta favorece a digestão. Nos solos brasileiros, uma lichieira pode chegar a produzir mais de 100 quilos de frutos. Disponível em: <https://www.guiadoscuriosos.com.br>. (Com corte).

06. De acordo com o texto marque a alternativa incorreta.

- a) A lichia é originária da China.
- b) A fruta lichia tem uma polpa gelatinosa.
- c) Envolta em uma casca lisa e azul, a lichia é colhida justamente na época de Natal.

d) Segundo o texto, nos solos brasileiros, uma lichieira pode chegar a produzir mais de 100 quilos de frutos.



Fonte: <http://www.jadagram.com/i/m/2192476684954775842>

07. No texto “Fique na paz, faça as coisas pra você, as vezes ficar sozinha na sua paz é o melhor remédio” há uma palavra grafada, erroneamente. Assinale a alternativa, onde ela se encontra.

- a) Remédio.
- b) As vezes.
- c) Sozinha.
- d) Você.

08. Assinale a alternativa onde temos uma frase interrogativa.

- a) Não gosto de viajar.
- b) Que tarde linda!
- c) Eu a quero.
- d) Quer passear?

09. Marque a alternativa, onde não temos encontro consonantal.

- a) Amor.
- b) Claro.
- c) Clima.
- d) Cravo.

10. Em se tratando da correta classificação das palavras, quanto à posição da sílaba tônica, marque a alternativa errada.

- a) Duro (paroxítona).
- b) Lâmpada (proparoxítona).
- c) Pé (oxítona).
- d) Milhão (paroxítona).

RASCUNHO.